

ВИЩИЙ НАВЧАЛЬНИЙ ЗАКЛАД УКООПСПІЛКИ
«ПОЛТАВСЬКИЙ УНІВЕРСИТЕТ ЕКОНОМІКИ І ТОРГІВЛІ»

Кафедра туристичного та готельного бізнесу

СХВАЛЕНО

Вченою радою факультету харчових
технологій, готельно-ресторанного і
туристичного бізнесу

ЗАТВЕРДЖУЮ

Декан факультету харчових технологій,
готельно-ресторанного і туристичного
бізнесу

**ПАКЕТИ КОМПЛЕКСНИХ КОНТРОЛЬНИХ ЗАВДАНЬ
(РОБІТ)**

з навчальної дисципліни
«ТУРИСТИЧНО-КРАЄЗНАВЧА ДІЯЛЬНІСТЬ»

для студентів спеціальності 242 «Туризм» ступеня магістра

Розглянуто та схвалено на засіданні
кафедри туристичного та готельного
бізнесу

ЗАТВЕРДЖЕНО

Наказ Вищого навчального закладу Укоопспілки
«Полтавський університет економіки і торгівлі»
08 липня 2015 року № 152-Н
Форма № П-4.06

МІНІСТЕРСТВО ОСВІТИ І НАУКИ УКРАЇНИ
ВИЩИЙ НАВЧАЛЬНИЙ ЗАКЛАД УКООПСІЛКИ
«ПОЛТАВСЬКИЙ УНІВЕРСИТЕТ ЕКОНОМІКИ І ТОРГІВЛІ»
Кафедра туристичного та готельного бізнесу

Комплексна контрольна робота

з навчальної дисципліни «Туристично-краєзнавча діяльність»
для студентів спеціальності 242 «Туризм» ступеня магістра

Варіант № 1

Дайте відповіді на питання:

1. Розкрийте об'єкт та предмет туристичного краєзнавства.
2. Охарактеризуйте найвідоміші музеї Вашого краю.

Практичне завдання:

Оцініть рельєф місцевості, зображеної на фрагменті топографічної карти. Якою буквою позначено ділянку, що може бути затоплена водою внаслідок інтенсивного танення снігу? Визначте різницю висот між максимальною мінімальною висотами на карті.



ЗАТВЕРДЖЕНО

Наказ Вищого навчального закладу Укоопспілки
«Полтавський університет економіки і торгівлі»
08 липня 2015 року № 152-Н
Форма № П-4.06

МІНІСТЕРСТВО ОСВІТИ І НАУКИ УКРАЇНИ
ВИЩИЙ НАВЧАЛЬНИЙ ЗАКЛАД УКООПСІЛКИ
«ПОЛТАВСЬКИЙ УНІВЕРСИТЕТ ЕКОНОМІКИ І ТОРГІВЛІ»
Кафедра туристичного та готельного бізнесу

Комплексна контрольна робота

з навчальної дисципліни «Туристично-краєзнавча діяльність»
для студентів спеціальності 242 «Туризм» ступеня магістра

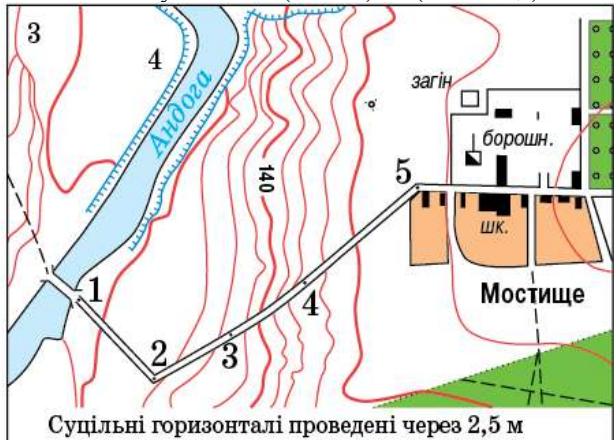
Варіант № 2

Дайте відповіді на питання:

1. Які Ви знаєте функції краєзнавства?
2. Як класифікують музеї України?

Практичне завдання:

Розгляньте фрагмент топографічної карти. Оцініть рельєф місцевості між річкою Андогою та населеним пунктом Мостище. Визначте абсолютну висоту пункту 5 Мостища, та різницю висот між пунктами 1 (місток) і 5 (Мостище).



ЗАТВЕРДЖЕНО

Наказ Вищого навчального закладу Укоопспілки
«Полтавський університет економіки і торгівлі»
08 липня 2015 року № 152-Н
Форма № П-4.06

МІНІСТЕРСТВО ОСВІТИ І НАУКИ УКРАЇНИ
ВИЩИЙ НАВЧАЛЬНИЙ ЗАКЛАД УКООПСІЛКИ
«ПОЛТАВСЬКИЙ УНІВЕРСИТЕТ ЕКОНОМІКИ І ТОРГІВЛІ»
Кафедра туристичного та готельного бізнесу

Комплексна контрольна робота

з навчальної дисципліни «Туристично-краєзнавча діяльність»
для студентів спеціальності 242 «Туризм» ступеня магістра

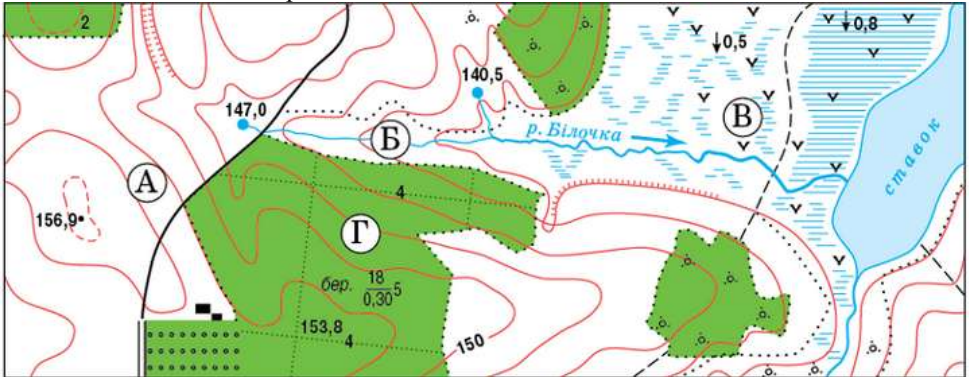
Варіант № 3

Дайте відповіді на питання:

1. Опишіть основні методи туристично-краєзнавчих досліджень.
2. Що таке музеї та яку суспільну роль вони відіграють?

Практичне завдання:

Укажіть точку з найменшою абсолютною висотою. Визначте різницю висот між вказаними точками на карті.



ЗАТВЕРДЖЕНО
Наказ Вищого навчального закладу Укоопспілки
«Полтавський університет економіки і торгівлі»
08 липня 2015 року № 152-Н
Форма № П-4.06

МІНІСТЕРСТВО ОСВІТИ І НАУКИ УКРАЇНИ
ВИЩИЙ НАВЧАЛЬНИЙ ЗАКЛАД УКООПСІЛКИ
«ПОЛТАВСЬКИЙ УНІВЕРСИТЕТ ЕКОНОМІКИ І ТОРГІВЛІ»
Кафедра туристичного та готельного бізнесу

Комплексна контрольна робота
з навчальної дисципліни «Туристично-краєзнавча діяльність»
для студентів спеціальності 242 «Туризм» ступеня магістра

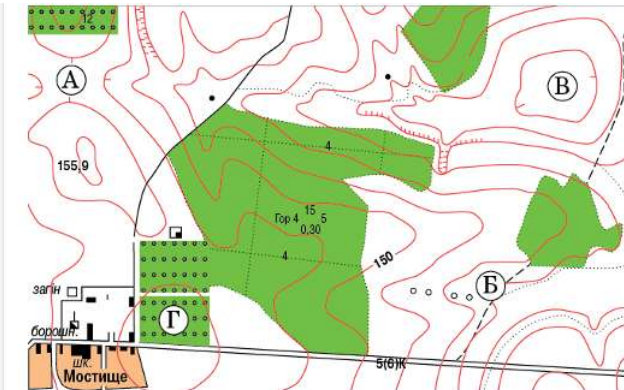
Варіант № 4

Дайте відповіді на питання:

1. Яким чином карстові печери використовують для спелеотуризму та спелеотерапії?
2. Як Ви можете охарактеризувати сучасний стан розвитку туристичної картографії в Україні?

Практичне завдання:

Оцініть рельєф місцевості, зображеної на фрагменті топографічної карти. Якою буквою позначено ділянку, що може бути затоплена водою внаслідок інтенсивного танення снігу? Визначте різницю висот між максимальною мінімальною висотами.



карті.

Суцільні горизонталі проведені через 2,5 метра.

ЗАТВЕРДЖЕНО

Наказ Вищого навчального закладу Укоопспілки
«Полтавський університет економіки і торгівлі»
08 липня 2015 року № 152-Н
Форма № П-4.06

МІНІСТЕРСТВО ОСВІТИ І НАУКИ УКРАЇНИ
ВИЩИЙ НАВЧАЛЬНИЙ ЗАКЛАД УКООПСПІЛКИ
«ПОЛТАВСЬКИЙ УНІВЕРСИТЕТ ЕКОНОМІКИ І ТОРГІВЛІ»
Кафедра туристичного та готельного бізнесу

Комплексна контрольна робота

з навчальної дисципліни «Туристично-краєзнавча діяльність»
для студентів спеціальності 242 «Туризм» ступеня магістра

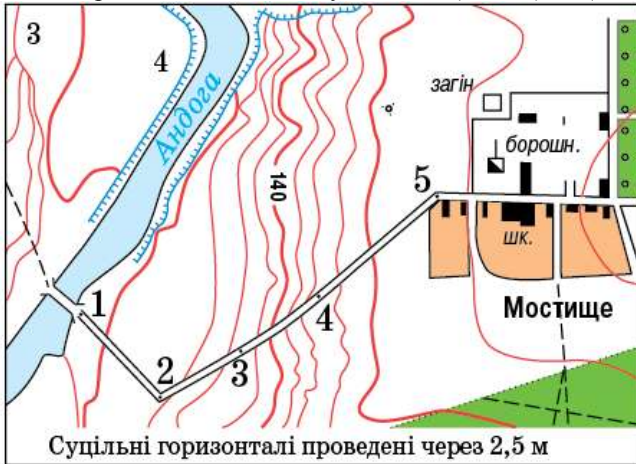
Варіант № 5

Дайте відповіді на питання:

1. Розкрийте поняття "туристична карта" та вкажіть основні елементи її інформаційного наповнення.
2. Як класифікуються курорти України?

Практичне завдання:

Розгляньте фрагмент топографічної карти. Оцініть рельєф місцевості між річкою Андогою та населеним пунктом Мостище. Визначте абсолютну висоту пункту 5 Мостища, та різницю висот між пунктами 1 (місток) і 5 (Мостище).



ЗАТВЕРДЖЕНО

Наказ Вищого навчального закладу Укоопспілки
«Полтавський університет економіки і торгівлі»
08 липня 2015 року № 152-Н
Форма № П-4.06

МІНІСТЕРСТВО ОСВІТИ І НАУКИ УКРАЇНИ
ВИЩИЙ НАВЧАЛЬНИЙ ЗАКЛАД УКООПСІЛКИ
«ПОЛТАВСЬКИЙ УНІВЕРСИТЕТ ЕКОНОМІКИ І ТОРГІВЛІ»
Кафедра туристичного та готельного бізнесу

Комплексна контрольна робота

з навчальної дисципліни «Туристично-краєзнавча діяльність»
для студентів спеціальності 242 «Туризм» ступеня магістра

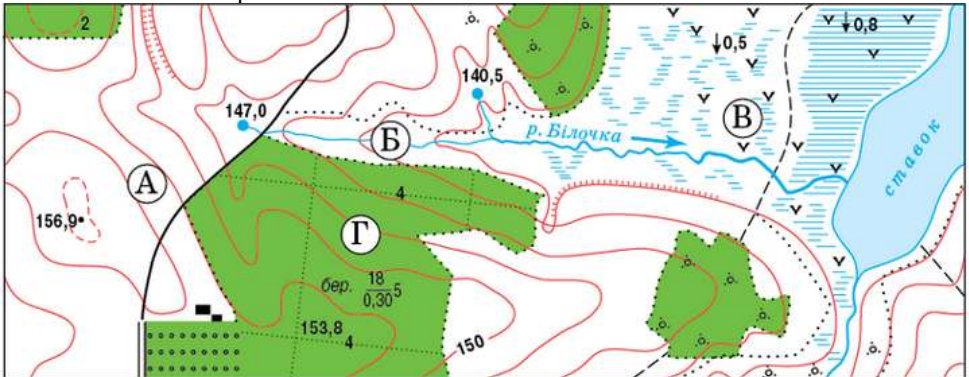
Варіант № 6

Дайте відповіді на питання:

1. Назвіть типи туристичних карт. У чому полягають відмінності між ними?
2. Розкрийте зміст понять "курорт" і "курортно-рекреаційний заклад".

Практичне завдання:

Укажіть точку з найменшою абсолютною висотою. Визначте різницю висот між вказаними точками на карті.



ЗАТВЕРДЖЕНО

Наказ Вищого навчального закладу Укоопспілки
«Полтавський університет економіки і торгівлі»
08 липня 2015 року № 152-Н
Форма № П-4.06

МІНІСТЕРСТВО ОСВІТИ І НАУКИ УКРАЇНИ
ВИЩИЙ НАВЧАЛЬНИЙ ЗАКЛАД УКООПСІЛКИ
«ПОЛТАВСЬКИЙ УНІВЕРСИТЕТ ЕКОНОМІКИ І ТОРГІВЛІ»
Кафедра туристичного та готельного бізнесу

Комплексна контрольна робота

з навчальної дисципліни «Туристично-краєзнавча діяльність»
для студентів спеціальності 242 «Туризм» ступеня магістра

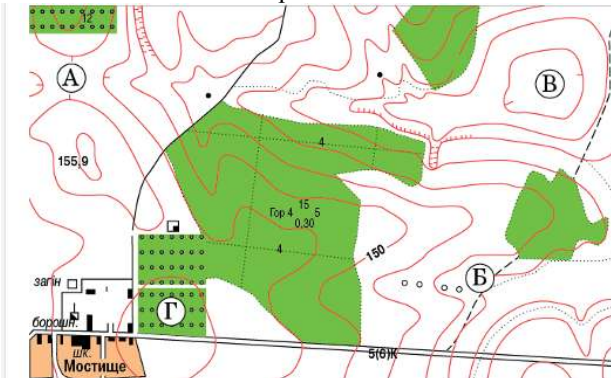
Варіант № 7

Дайте відповіді на питання:

1. Які спеціальні туристичні умовні позначення використовуються на місцевості та на карті?
2. Що таке "лікувальні грязі", які традиції грязелікування склалися в нашій державі?

Практичне завдання:

Оцініть рельєф місцевості, зображеної на фрагменті топографічної карти. Якою буквою позначено ділянку, що може бути затоплена водою внаслідок інтенсивного танення снігу? Визначте різницю висот між максимальною мінімальними висотами на карті.



Суцільні горизонталі проведени через 2,5 метра.

ЗАТВЕРДЖЕНО

Наказ Вищого навчального закладу Укоопспілки
«Полтавський університет економіки і торгівлі»
08 липня 2015 року № 152-Н
Форма № П-4.06

МІНІСТЕРСТВО ОСВІТИ І НАУКИ УКРАЇНИ
ВИЩИЙ НАВЧАЛЬНИЙ ЗАКЛАД УКООПСІЛКИ
«ПОЛТАВСЬКИЙ УНІВЕРСИТЕТ ЕКОНОМІКИ І ТОРГІВЛІ»
Кафедра туристичного та готельного бізнесу

Комплексна контрольна робота

з навчальної дисципліни «Туристично-краєзнавча діяльність»
для студентів спеціальності 242 «Туризм» ступеня магістра

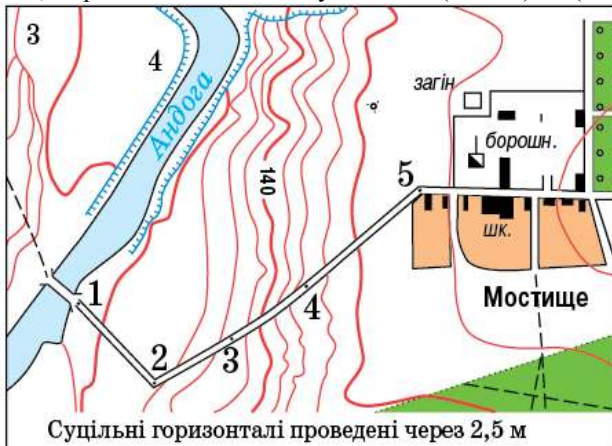
Варіант № 8

Дайте відповіді на питання:

1. Мінеральні води яких бальнеологічних груп виявлені на території України?
2. Охарактеризуйте суспільне значення рекреації у природному середовищі.

Практичне завдання:

Розгляньте фрагмент топографічної карти. Оцініть рельєф місцевості між річкою Андоєю та населеним пунктом Мостище. Визначте абсолютну висоту пункту 5 Мостища, та різницю висот між пунктами 1 (місток) і 5 (Мостище).



ЗАТВЕРДЖЕНО

Наказ Вищого навчального закладу Укоопспілки
«Полтавський університет економіки і торгівлі»
08 липня 2015 року № 152-Н
Форма № П-4.06

МІНІСТЕРСТВО ОСВІТИ І НАУКИ УКРАЇНИ
ВИЩИЙ НАВЧАЛЬНИЙ ЗАКЛАД УКООПСІЛКИ
«ПОЛТАВСЬКИЙ УНІВЕРСИТЕТ ЕКОНОМІКИ І ТОРГІВЛІ»
Кафедра туристичного та готельного бізнесу

Комплексна контрольна робота

з навчальної дисципліни «Туристично-краєзнавча діяльність»
для студентів спеціальності 242 «Туризм» ступеня магістра

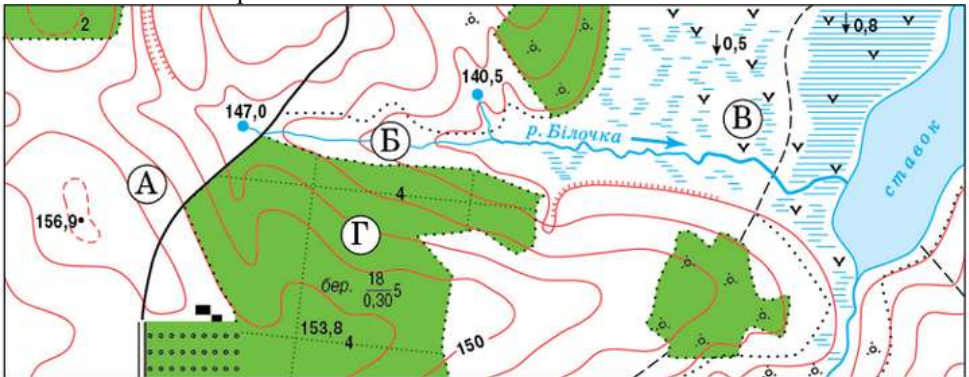
Варіант № 9

Дайте відповіді на питання:

1. Якими природними краєзнавчо-туристичними ресурсами багата Україна?
2. Розкрийте об'єкт та предмет туристичного краєзнавства.

Практичне завдання:

Укажіть точку з найменшою абсолютною висотою. Визначте різницю висот між вказаними точками на карті.



ЗАТВЕРДЖЕНО
Наказ Вищого навчального закладу Укоопспілки
«Полтавський університет економіки і торгівлі»
08 липня 2015 року № 152-Н
Форма № П-4.06

МІНІСТЕРСТВО ОСВІТИ І НАУКИ УКРАЇНИ
ВИЩИЙ НАВЧАЛЬНИЙ ЗАКЛАД УКООПСІЛКИ
«ПОЛТАВСЬКИЙ УНІВЕРСИТЕТ ЕКОНОМІКИ І ТОРГІВЛІ»
Кафедра туристичного та готельного бізнесу

Комплексна контрольна робота
з навчальної дисципліни «Туристично-краєзнавча діяльність»
для студентів спеціальності 242 «Туризм» ступеня магістра

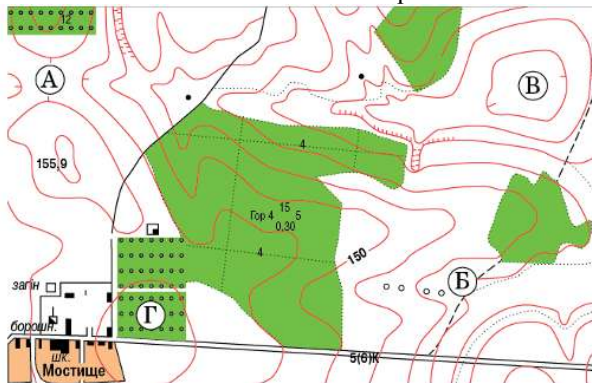
Варіант № 10

Дайте відповіді на питання:

1. Які Ви знаєте функції краєзнавства?
2. Як класифікуються об'єкти державного природно-заповідного фонду України?

Практичне завдання:

Оцініть рельєф місцевості, зображеної на фрагменті топографічної карти. Якою буквою позначено ділянку, що може бути затоплена водою внаслідок інтенсивного танення снігу? Визначте різницю висот між максимальною мінімальними висотами на карті.



Суцільні горизонталі проведені через 2,5 метра.

ЗАТВЕРДЖЕНО

Наказ Вищого навчального закладу Укоопспілки
«Полтавський університет економіки і торгівлі»

08 липня 2015 року № 152-Н

Форма № П-4.06

МІНІСТЕРСТВО ОСВІТИ І НАУКИ УКРАЇНИ
ВИЩИЙ НАВЧАЛЬНИЙ ЗАКЛАД УКООПСПІЛКИ
«ПОЛТАВСЬКИЙ УНІВЕРСИТЕТ ЕКОНОМІКИ І ТОРГІВЛІ»
Кафедра туристичного та готельного бізнесу

Комплексна контрольна робота

з навчальної дисципліни «Туристично-краєзнавча діяльність»
для студентів спеціальності 242 «Туризм» ступеня магістра

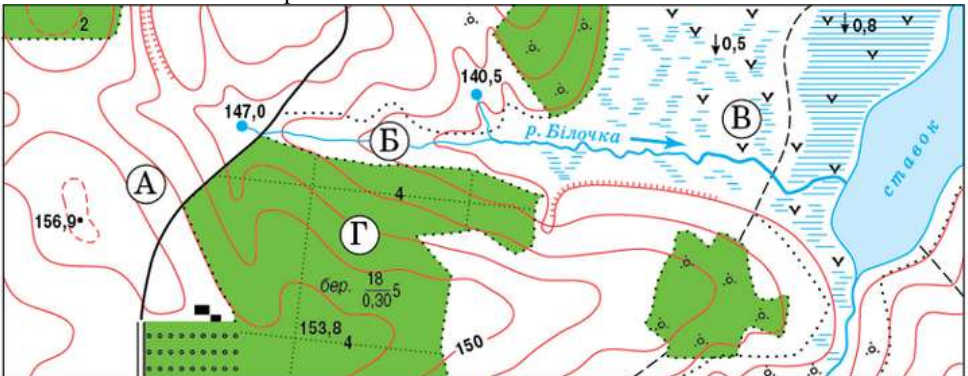
Варіант № 11

Дайте відповіді на питання:

1. Якими природними краєзнавчо-туристичними ресурсами багата Україна?
2. Опишіть основні методи туристично-краєзнавчих досліджень.

Практичне завдання:

Укажіть точку з найменшою абсолютною висотою. Визначте різницю висот між вказаними точками на карті.



ЗАТВЕРДЖЕНО

Наказ Вищого навчального закладу Укоопспілки
«Полтавський університет економіки і торгівлі»
08 липня 2015 року № 152-Н
Форма № П-4.06

МІНІСТЕРСТВО ОСВІТИ І НАУКИ УКРАЇНИ
ВИЩИЙ НАВЧАЛЬНИЙ ЗАКЛАД УКООПСІЛКИ
«ПОЛТАВСЬКИЙ УНІВЕРСИТЕТ ЕКОНОМІКИ І ТОРГІВЛІ»
Кафедра туристичного та готельного бізнесу

Комплексна контрольна робота

з навчальної дисципліни «Туристично-краєзнавча діяльність»
для студентів спеціальності 242 «Туризм» ступеня магістра

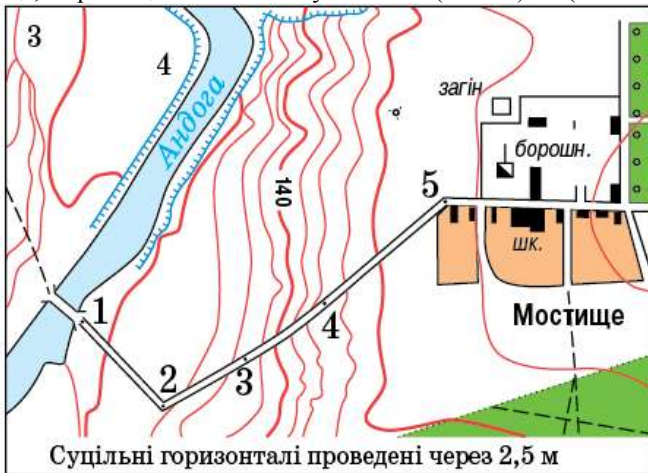
Варіант № 12

Дайте відповіді на питання:

1. Як Ви можете охарактеризувати сучасний стан розвитку туристичної картографії в Україні?
2. Якими природними краєзнавчо-туристичними ресурсами багата Україна?

Практичне завдання:

Розгляньте фрагмент топографічної карти. Оцініть рельєф місцевості між річкою Андогою та населеним пунктом Мостище. Визначте абсолютну висоту пункту 5 Мостища, та різницю висот між пунктами 1 (місток) і 5 (Мостище).



ЗАТВЕРДЖЕНО

Наказ Вищого навчального закладу Укоопспілки
«Полтавський університет економіки і торгівлі»
08 липня 2015 року № 152-Н
Форма № П-4.06

МІНІСТЕРСТВО ОСВІТИ І НАУКИ УКРАЇНИ
ВИЩИЙ НАВЧАЛЬНИЙ ЗАКЛАД УКООПСІЛКИ
«ПОЛТАВСЬКИЙ УНІВЕРСИТЕТ ЕКОНОМІКИ І ТОРГІВЛІ»
Кафедра туристичного та готельного бізнесу

Комплексна контрольна робота

з навчальної дисципліни «Туристично-краєзнавча діяльність»
для студентів спеціальності 242 «Туризм» ступеня магістра

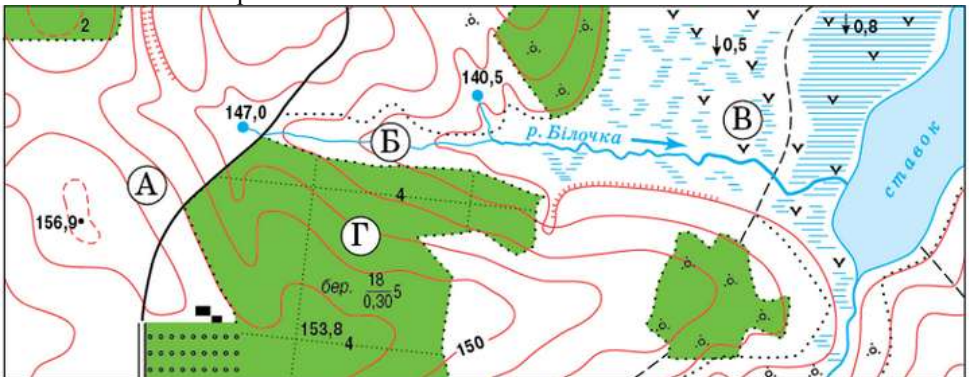
Варіант № 14

Дайте відповіді на питання:

1. Які Ви знаєте функції краєзнавства?
2. Охарактеризуйте найвідоміші музеї Вашого краю.

Практичне завдання:

Укажіть точку з найменшою абсолютною висотою. Визначте різницю висот між вказаними точками на карті.



ЗАТВЕРДЖЕНО

Наказ Вищого навчального закладу Укоопспілки
«Полтавський університет економіки і торгівлі»
08 липня 2015 року № 152-Н
Форма № П-4.06

МІНІСТЕРСТВО ОСВІТИ І НАУКИ УКРАЇНИ
ВИЩИЙ НАВЧАЛЬНИЙ ЗАКЛАД УКООПСІЛКИ
«ПОЛТАВСЬКИЙ УНІВЕРСИТЕТ ЕКОНОМІКИ І ТОРГІВЛІ»
Кафедра туристичного та готельного бізнесу

Комплексна контрольна робота

з навчальної дисципліни «Туристично-краєзнавча діяльність»
для студентів спеціальності 242 «Туризм» ступеня магістра

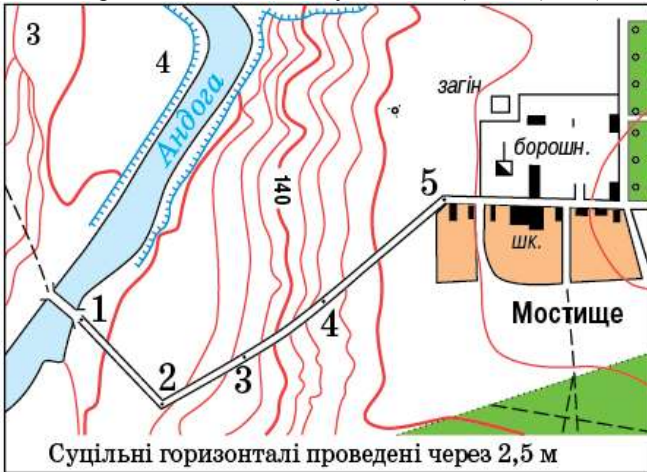
Варіант № 15

Дайте відповіді на питання:

1. Як класифікують музеї України?
2. Назвіть типи туристичних карт. У чому полягають відмінності між ними?

Практичне завдання:

Розгляньте фрагмент топографічної карти. Оцініть рельєф місцевості між річкою Андогою та населеним пунктом Мостище. Визначте абсолютну висоту пункту 5 Мостища, та різницю висот між пунктами 1 (місток) і 5 (Мостище).



ЗАТВЕРДЖЕНО

Наказ Вищого навчального закладу Укоопспілки
«Полтавський університет економіки і торгівлі»
08 липня 2015 року № 152-Н
Форма № П-4.06

МІНІСТЕРСТВО ОСВІТИ І НАУКИ УКРАЇНИ
ВИЩИЙ НАВЧАЛЬНИЙ ЗАКЛАД УКООПСІЛКИ
«ПОЛТАВСЬКИЙ УНІВЕРСИТЕТ ЕКОНОМІКИ І ТОРГІВЛІ»
Кафедра туристичного та готельного бізнесу

Комплексна контрольна робота

з навчальної дисципліни «Туристично-краєзнавча діяльність»
для студентів спеціальності 242 «Туризм» ступеня магістра

Варіант № 16

Дайте відповіді на питання:

1. Які спеціальні туристичні умовні позначення використовуються на місцевості та на карті?
2. Що таке музеї та яку суспільну роль вони відіграють?

Практичне завдання:

Оцініть рельєф місцевості, зображеної на фрагменті топографічної карти. Якою буквою позначено ділянку, що може бути затоплена водою внаслідок інтенсивного танення снігу? Визначте різницю висот між максимальною мінімальною висотами на карті.



ЗАТВЕРДЖЕНО

Наказ Вищого навчального закладу Укоопспілки
«Полтавський університет економіки і торгівлі»
08 липня 2015 року № 152-Н
Форма № П-4.06

МІНІСТЕРСТВО ОСВІТИ І НАУКИ УКРАЇНИ
ВИЩИЙ НАВЧАЛЬНИЙ ЗАКЛАД УКООПСІЛКИ
«ПОЛТАВСЬКИЙ УНІВЕРСИТЕТ ЕКОНОМІКИ І ТОРГІВЛІ»
Кафедра туристичного та готельного бізнесу

Комплексна контрольна робота

з навчальної дисципліни «Туристично-краєзнавча діяльність»
для студентів спеціальності 242 «Туризм» ступеня магістра

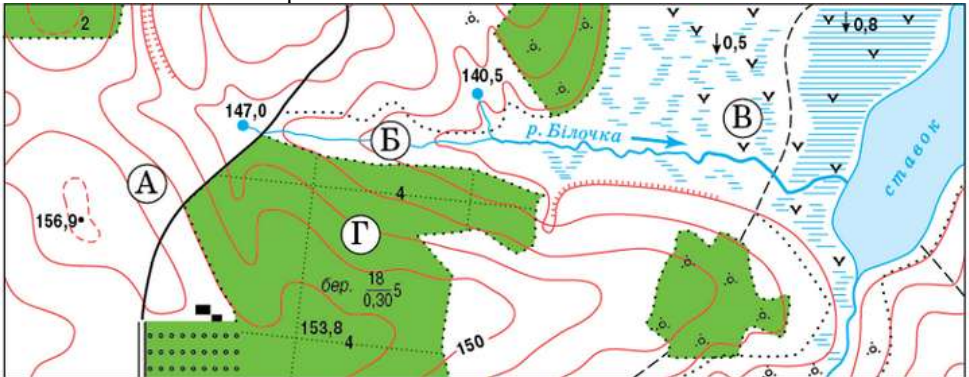
Варіант № 17

Дайте відповіді на питання:

1. Яким чином карстові печери використовують для спелеотуризму та спелеотерапії?
2. Розкрийте поняття "туристична карта" та вкажіть основні елементи її інформаційного наповнення.

Практичне завдання:

Укажіть точку з найменшою абсолютною висотою. Визначте різницю висот між вказаними точками на карті.



ЗАТВЕРДЖЕНО

Наказ Вищого навчального закладу Укоопспілки
«Полтавський університет економіки і торгівлі»
08 липня 2015 року № 152-Н
Форма № П-4.06

МІНІСТЕРСТВО ОСВІТИ І НАУКИ УКРАЇНИ
ВИЩИЙ НАВЧАЛЬНИЙ ЗАКЛАД УКООПСПІЛКИ
«ПОЛТАВСЬКИЙ УНІВЕРСИТЕТ ЕКОНОМІКИ І ТОРГІВЛІ»
Кафедра туристичного та готельного бізнесу

Комплексна контрольна робота

з навчальної дисципліни «Туристично-краєзнавча діяльність»
для студентів спеціальності 242 «Туризм» ступеня магістра

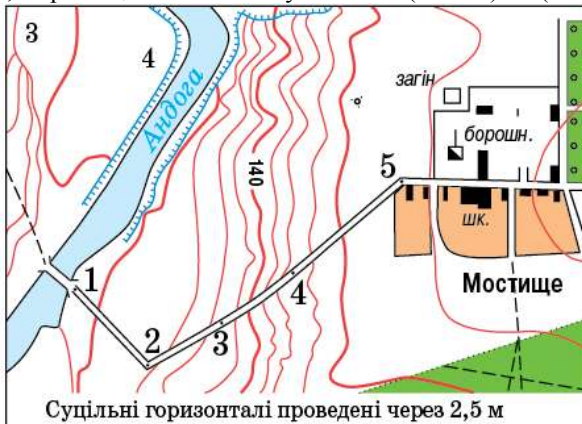
Варіант № 18

Дайте відповіді на питання:

1. Які спеціальні туристичні умовні позначення використовуються на місцевості та на карті?
2. Мінеральні води яких бальнеологічних груп виявлені на території України?

Практичне завдання:

Розгляньте фрагмент топографічної карти. Оцініть рельєф місцевості між річкою Андогою та населеним пунктом Мостище. Визначте абсолютну висоту пункту 5 Мостища, та різницю висот між пунктами 1 (місток) і 5 (Мостище).



ЗАТВЕРДЖЕНО
Наказ Вищого навчального закладу Укоопспілки
«Полтавський університет економіки і торгівлі»
08 липня 2015 року № 152-Н
Форма № П-4.06

МІНІСТЕРСТВО ОСВІТИ І НАУКИ УКРАЇНИ
ВИЩИЙ НАВЧАЛЬНИЙ ЗАКЛАД УКООПСІЛКИ
«ПОЛТАВСЬКИЙ УНІВЕРСИТЕТ ЕКОНОМІКИ І ТОРГІВЛІ»
Кафедра туристичного та готельного бізнесу

Комплексна контрольна робота
з навчальної дисципліни «Туристично-краєзнавча діяльність»
для студентів спеціальності 242 «Туризм» ступеня магістра

Варіант № 19

Дайте відповіді на питання:

1. Охарактеризуйте природні рекреаційно-курортні ресурси України.
2. Охарактеризуйте суспільне значення рекреації у природному середовищі.

Практичне завдання:

Оцініть рельєф місцевості, зображеної на фрагменті топографічної карти. Якою буквою позначено ділянку, що може бути затоплена водою внаслідок інтенсивного танення снігу? Визначте різницю висот між максимальною мінімальними висотами на карті.



ЗАТВЕРДЖЕНО

Наказ Вищого навчального закладу Укоопспілки
«Полтавський університет економіки і торгівлі»
08 липня 2015 року № 152-Н
Форма № П-4.06

МІНІСТЕРСТВО ОСВІТИ І НАУКИ УКРАЇНИ
ВИЩИЙ НАВЧАЛЬНИЙ ЗАКЛАД УКООПСІЛКИ
«ПОЛТАВСЬКИЙ УНІВЕРСИТЕТ ЕКОНОМІКИ І ТОРГІВЛІ»
Кафедра туристичного та готельного бізнесу

Комплексна контрольна робота

з навчальної дисципліни «Туристично-краєзнавча діяльність»
для студентів спеціальності 242 «Туризм» ступеня магістра

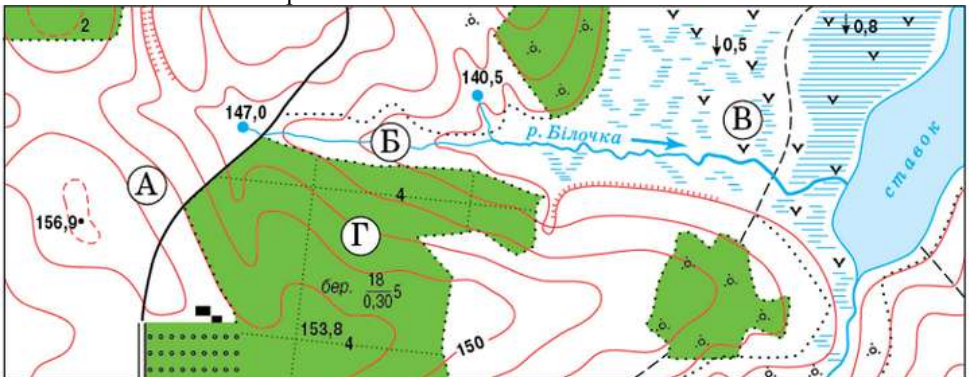
Варіант № 20

Дайте відповіді на питання:

1. Розкрийте поняття "туристична карта" та вкажіть основні елементи її інформаційного наповнення.
2. Як класифікують музеї України?

Практичне завдання:

Укажіть точку з найменшою абсолютною висотою. Визначте різницю висот між вказаними точками на карті.



ЗАТВЕРДЖЕНО

Наказ Вищого навчального закладу Укоопспілки
«Полтавський університет економіки і торгівлі»
08 липня 2015 року № 152-Н
Форма № П-4.06

МІНІСТЕРСТВО ОСВІТИ І НАУКИ УКРАЇНИ
ВИЩИЙ НАВЧАЛЬНИЙ ЗАКЛАД УКООПСІЛКИ
«ПОЛТАВСЬКИЙ УНІВЕРСИТЕТ ЕКОНОМІКИ І ТОРГІВЛІ»
Кафедра туристичного та готельного бізнесу

Комплексна контрольна робота

з навчальної дисципліни «Туристично-краєзнавча діяльність»
для студентів спеціальності 242 «Туризм» ступеня магістра

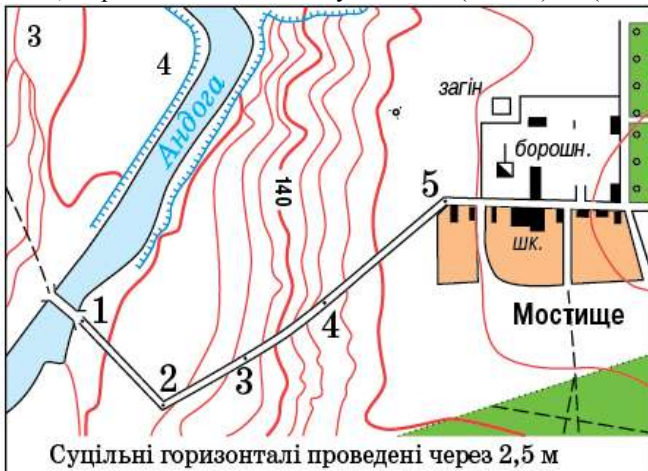
Варіант № 21

Дайте відповіді на питання:

1. Як Ви можете охарактеризувати сучасний стан розвитку туристичної картографії в Україні?
2. Яким чином карстові печери використовують для спелеотуризму та спелеотерапії?

Практичне завдання:

Розгляньте фрагмент топографічної карти. Оцініть рельєф місцевості між річкою Андогою та населеним пунктом Мостище. Визначте абсолютну висоту пункту 5 Мостища, та різницю висот між пунктами 1 (місток) і 5 (Мостище).



ЗАТВЕРДЖЕНО

Наказ Вищого навчального закладу Укоопспілки
«Полтавський університет економіки і торгівлі»
08 липня 2015 року № 152-Н
Форма № П-4.06

МІНІСТЕРСТВО ОСВІТИ І НАУКИ УКРАЇНИ
ВИЩИЙ НАВЧАЛЬНИЙ ЗАКЛАД УКООПСІЛКИ
«ПОЛТАВСЬКИЙ УНІВЕРСИТЕТ ЕКОНОМІКИ І ТОРГІВЛІ»
Кафедра туристичного та готельного бізнесу

Комплексна контрольна робота

з навчальної дисципліни «Туристично-красознавча діяльність»
для студентів спеціальності 242 «Туризм» ступеня магістра

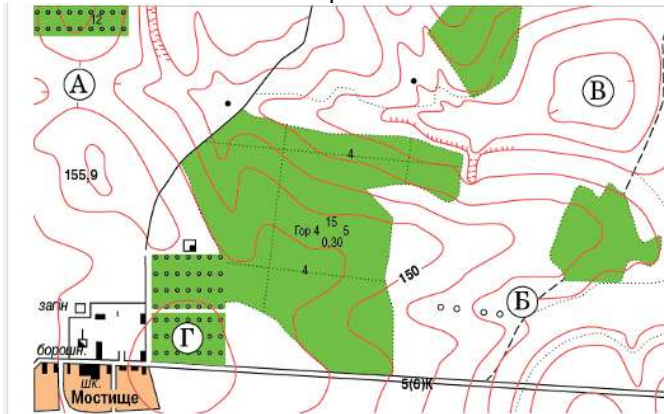
Варіант № 22

Дайте відповіді на питання:

1. Як класифікуються курорти України?
2. Назвіть типи туристичних карт. У чому полягають відмінності між ними?

Практичне завдання:

Оцініть рельєф місцевості, зображеної на фрагменті топографічної карти. Якою буквою позначено ділянку, що може бути затоплена водою внаслідок інтенсивного танення снігу? Визначте різницю висот між максимальною мінімальними висотами на карті.



Суцільні горизонталі проведені через 2,5 метра.

ЗАТВЕРДЖЕНО

Наказ Вищого навчального закладу Укоопспілки
«Полтавський університет економіки і торгівлі»
08 липня 2015 року № 152-Н
Форма № П-4.06

МІНІСТЕРСТВО ОСВІТИ І НАУКИ УКРАЇНИ
ВИЩИЙ НАВЧАЛЬНИЙ ЗАКЛАД УКООПСІЛКИ
«ПОЛТАВСЬКИЙ УНІВЕРСИТЕТ ЕКОНОМІКИ І ТОРГІВЛІ»
Кафедра туристичного та готельного бізнесу

Комплексна контрольна робота

з навчальної дисципліни «Туристично-краєзнавча діяльність»
для студентів спеціальності 242 «Туризм» ступеня магістра

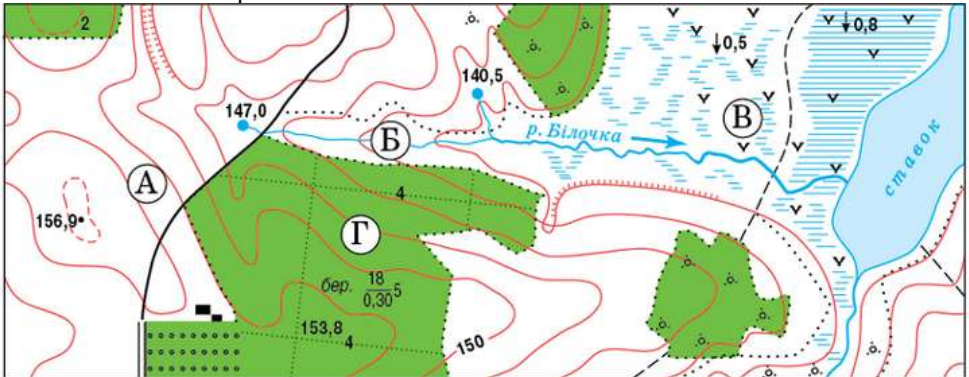
Варіант № 23

Дайте відповіді на питання:

1. Опишіть основні методи туристично-краєзнавчих досліджень
2. Що таке «лікувальні грязі», які традиції грязелікування склалися в нашій державі?

Практичне завдання:

Укажіть точку з найменшою абсолютною висотою. Визначте різницю висот між вказаними точками на карті.



ЗАТВЕРДЖЕНО

Наказ Вищого навчального закладу Укоопспілки
«Полтавський університет економіки і торгівлі»
08 липня 2015 року № 152-Н
Форма № П-4.06

МІНІСТЕРСТВО ОСВІТИ І НАУКИ УКРАЇНИ
ВИЩИЙ НАВЧАЛЬНИЙ ЗАКЛАД УКООПСІЛКИ
«ПОЛТАВСЬКИЙ УНІВЕРСИТЕТ ЕКОНОМІКИ І ТОРГІВЛІ»
Кафедра туристичного та готельного бізнесу

Комплексна контрольна робота

з навчальної дисципліни «Туристично-краєзнавча діяльність»
для студентів спеціальності 242 «Туризм» ступеня магістра»

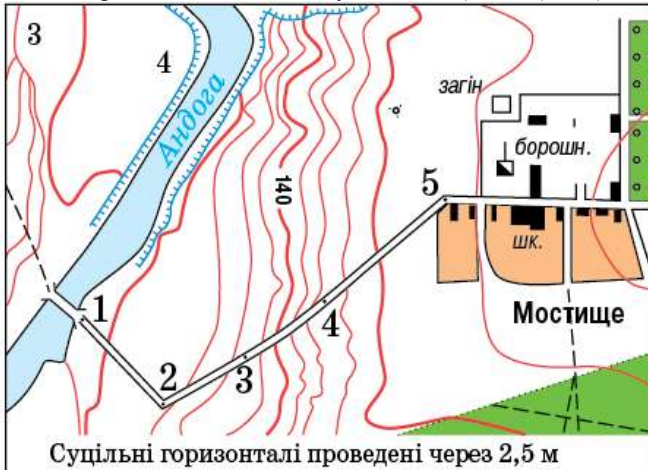
Варіант № 24

Дайте відповіді на питання:

1. Мінеральні води яких бальнеологічних груп виявлені на території України?
2. Охарактеризуйте природні рекреаційно-курортні ресурси України.

Практичне завдання:

Розгляньте фрагмент топографічної карти. Оцініть рельєф місцевості між річкою Андогою та населеним пунктом Мостище. Визначте абсолютну висоту пункту 5 Мостища, та різницю висот між пунктами 1 (місток) і 5 (Мостище).



ЗАТВЕРДЖЕНО

Наказ Вищого навчального закладу Укоопспілки
«Полтавський університет економіки і торгівлі»
08 липня 2015 року № 152-Н
Форма № П-4.06

МІНІСТЕРСТВО ОСВІТИ І НАУКИ УКРАЇНИ
ВИЩИЙ НАВЧАЛЬНИЙ ЗАКЛАД УКООПСІЛКИ
«ПОЛТАВСЬКИЙ УНІВЕРСИТЕТ ЕКОНОМІКИ І ТОРГІВЛІ»
Кафедра туристичного та готельного бізнесу

Комплексна контрольна робота

з навчальної дисципліни «Туристично-краєзнавча діяльність»
для студентів спеціальності 242 «Туризм» ступеня магістра

Варіант № 25

Дайте відповіді на питання:

1. Як класифікуються об'єкти державного природно-заповідного фонду України?
2. Розкрийте об'єкт та предмет туристичного краєзнавства.

Практичне завдання:

Оцініть рельєф місцевості, зображеної на фрагменті топографічної карти. Якою буквою позначено ділянку, що може бути затоплена водою внаслідок інтенсивного танення снігу? Визначте різницю висот між максимальною мінімальними висотами на карті.

